

# FAIRTRADE-MINISPIELE



FAIRTRADE  
DEUTSCHLAND

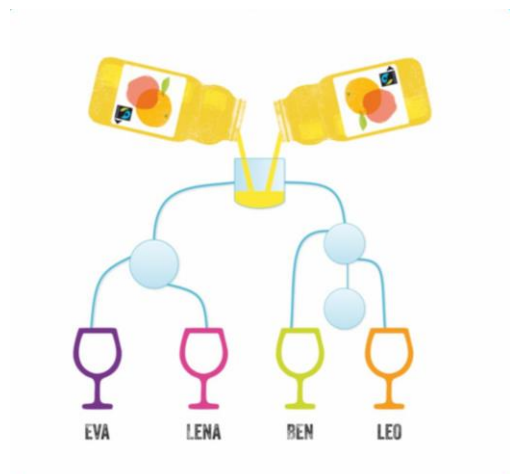
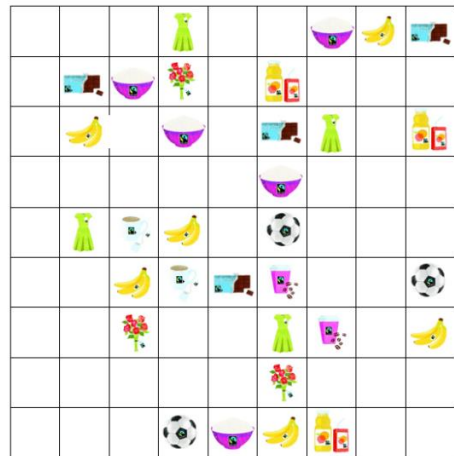
## ÜBERSICHT

Die FAIRTRADE-Minispiele bieten einen spielerischen Einstieg in das Thema fairer Handel. Sie bestehen aus drei Spielen, die unabhängig voneinander gespielt werden können.

- FAIRTRADE-Rechenrätsel
- FAIRTRADE-Sudoku
- FAIRTRADE-Gläserrätsel
- Musterlösung

Weitere Bildungsmaterialien rund um FAIRTRADE finden Sie unter [www.fairtrade-schools.at](http://www.fairtrade-schools.at).

$$\begin{aligned} \text{☕} + \text{☕} + \text{☕} &= 30 \\ \text{☕} + \text{🍌} + \text{🍌} &= 18 \\ \text{🍌} - \text{🍫} &= 2 \\ \text{🍫} + \text{☕} + \text{🍌} &= ? \end{aligned}$$



## FAIRTRADE RECHENRÄTSEL

SCHAFFST DU DIE RECHNUNG ZU LÖSEN?

$$\text{Mug} + \text{Mug} + \text{Mug} = 30$$

$$\text{Mug} + \text{Bananas} + \text{Bananas} = 18$$

$$\text{Bananas} - \text{Chocolate} = 2$$

$$\text{Chocolate} + \text{Mug} + \text{Bananas} = ?$$

## FAIRTRADE SUDOKU

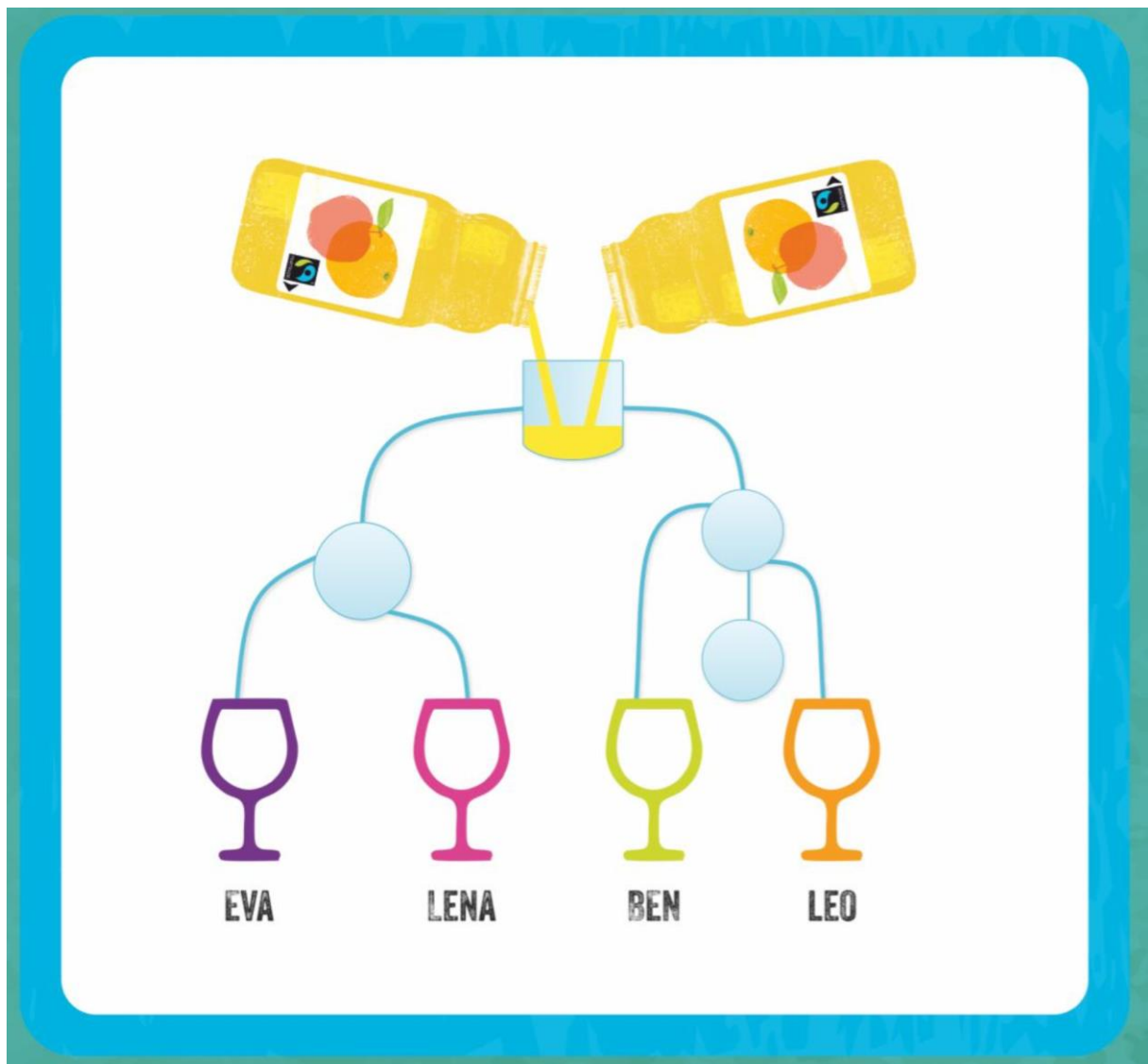
**HILF UNS DIE FEHLENDEN PRODUKTE ZU FINDEN!**

Beachte diese drei Regeln:

- In jedem 9er Kästchen sollten alle Produkte sein.
- In jeder 9er Reihe sollten alle Produkte sein.
- In jeder 9er Spalte sollten alle Produkte sein.






## FAIRTRADE LOGIKRÄTSEL

WELCHES GLAS IST ALS ERSTES VOLL?



## MUSTERLÖSUNG

### FAIRTRADE-RECHENRÄTSEL

 = 30	$10 + 10 + 10 = 30$
 = 18	$10 + 4 + 4 = 18$
 = 2	$4 - 2 = 2$
 = ?	$2 + 10 + 4 = 16$

### FAIRTRADE-SUDOKU

### FAIRTRADE-GLÄSERRÄTSEL

Lenas Glas ist als erstes voll, da es jenen Zufluss hat, der am weitersten unten ist. Der Orangensaft fließt ja immer nach unten.